

Evaluación para el Acceso a la Universidad Curso 2020/2021



Materia: MATEMÁTICAS II

Instrucciones: El estudiante deberá resolver **CUATRO** de los ocho ejercicios propuestos. Si resuelve más, se corregirán solo los cuatro primeros. Los ejercicios deben redactarse con claridad, detalladamente y razonando las respuestas. Se podrá utilizar cualquier tipo de calculadora. Cada ejercicio completo puntuará 2,5 puntos. Duración de la prueba: 1 hora y 30 minutos.

1. Sean las matrices

$$A = \begin{pmatrix} 3 & 1 & 2 \\ 1 & 0 & 1 \\ 0 & 1 & 1 \end{pmatrix} \quad \text{e} \quad I = \begin{pmatrix} 1 & 0 & 0 \\ 0 & 1 & 0 \\ 0 & 0 & 1 \end{pmatrix}.$$

a) [1 punto] Calcula razonadamente la matriz inversa de A .

b) [1,5 puntos] Calcula razonadamente la matriz X de la ecuación matricial $AX + 3I = A$.

Solución:

a) El determinante de A es $|A| = -2$, por lo que la matriz es invertible. La matriz adjunta de

$$A \text{ es } \text{adj}(A) = \begin{pmatrix} -1 & -1 & 1 \\ 1 & 3 & -3 \\ 1 & -1 & -1 \end{pmatrix}. \text{ Por tanto, la matriz inversa de } A \text{ es } A^{-1} = \frac{1}{-2} \text{adj}(A)^{\top} =$$
$$\frac{1}{-2} \begin{pmatrix} -1 & 1 & 1 \\ -1 & 3 & -1 \\ 1 & -3 & -1 \end{pmatrix} = \begin{pmatrix} 1/2 & -1/2 & -1/2 \\ 1/2 & -3/2 & 1/2 \\ -1/2 & 3/2 & 1/2 \end{pmatrix}.$$

Criterios de corrección:

- Explicación y justificación del método: 0,25 puntos.
- Cálculo del determinante y de la matriz adjunta: 0,5 puntos.
- Resultado final correcto: 0,25 puntos.

b) Operando y despejando:

$AX + 3I = A \implies X = A^{-1}(A - 3I)$. Teniendo en cuenta que $A^{-1}A = I$ y que $A^{-1}I = A^{-1}$, tenemos que $X = I - 3A^{-1}$.

$$X = \begin{pmatrix} 1 & 0 & 0 \\ 0 & 1 & 0 \\ 0 & 0 & 1 \end{pmatrix} - 3 \begin{pmatrix} 1/2 & -1/2 & -1/2 \\ 1/2 & -3/2 & 1/2 \\ -1/2 & 3/2 & 1/2 \end{pmatrix} \implies$$

$$X = \begin{pmatrix} -1/2 & 3/2 & 3/2 \\ -3/2 & 11/2 & -3/2 \\ 3/2 & -9/2 & -1/2 \end{pmatrix}.$$

Criterios de corrección:

- Despejar X en la ecuación matricial: 0,5 puntos.
- Obtención de $A^{-1}(A - 3I)$: 0,75 puntos
- Resultado final correcto: 0,25 puntos.

2. a) [1,75 puntos] Discute el siguiente sistema de ecuaciones lineales en función del parámetro $a \in \mathbb{R}$:

$$\begin{cases} x & +ay & +z & = & 2 \\ x & & +z & = & a \\ ax & +2y & +z & = & 3 \end{cases}.$$

b) [0,75 puntos] Resuelve razonadamente el sistema anterior para $a = 2$, si es posible.

Solución:

a)

$$A = \begin{pmatrix} 1 & a & 1 \\ 1 & 0 & 1 \\ a & 2 & 1 \end{pmatrix}; AM = \begin{pmatrix} 1 & a & 1 & 2 \\ 1 & 0 & 1 & a \\ a & 2 & 1 & 3 \end{pmatrix}.$$

$$|A| = a^2 - a = 0 \iff a = 0, a = 1.$$

- Si $a \neq 0$ y $a \neq 1$, $\text{Rango}(A) = \text{Rango}(AM) = 3$, sistema compatible determinado.
- Si $a = 0$, $\text{Rango}(A) = 2$, $\text{Rango}(AM) = 3$, sistema incompatible.
- Si $a = 1$, $\text{Rango}(A) = 2$, $\text{Rango}(AM) = 2$, sistema compatible indeterminado.

Criterios de corrección:

- Obtención de $|A|$ y el valor de los parámetros donde se anula: 0,5.
- Discusión razonada del caso en que a es distinto de los valores en los que se anula el determinante de A : 0,25 puntos
- Cálculo del rango de A y de AM cuando $a = 0$: 0,25 puntos. Discusión razonada en ese caso: 0,25 puntos.
- Cálculo del rango de A y de AM cuando $a = 1$: 0,25 puntos. Discusión razonada en ese caso: 0,25 puntos.

b) Si $a = 2$, $\text{Rango}(A) = \text{Rango}(AM) = 3 \implies$ sistema compatible determinado.

$$\begin{pmatrix} 1 & 2 & 1 & 2 \\ 1 & 0 & 1 & 2 \\ 2 & 2 & 1 & 3 \end{pmatrix} \begin{matrix} F_1 = F_1 - F_2 \\ F_3 = F_3 - 2F_2 \end{matrix} \sim \begin{pmatrix} 0 & 2 & 0 & 0 \\ 1 & 0 & 1 & 2 \\ 0 & 2 & -1 & -1 \end{pmatrix} \begin{matrix} F_1 = F_1/2 \\ F_3 = -(F_3 - F_1/2) \end{matrix} \sim \begin{pmatrix} 0 & 1 & 0 & 0 \\ 1 & 0 & 1 & 2 \\ 0 & 0 & 1 & 1 \end{pmatrix} \implies \begin{cases} x = 1 \\ y = 0 \\ z = 1 \end{cases}$$

Criterios de corrección:

Proceso de resolución del problema: 0,75 puntos.

3. a) [1,25 punto] Calcula razonadamente la siguiente integral: $\int x \cdot \cos(3x) dx$.

b) [1,25 puntos] Calcula razonadamente la siguiente integral: $\int \frac{dx}{2x^2 + 1}$.

Solución:

a) Integral por partes tomando $\begin{cases} u = x; & du = dx \\ dv = \cos(3x) dx; & v = \text{sen}(3x)/3 \end{cases}$. Por tanto,

$$\int x \cdot \cos(3x) dx = x \text{sen}(3x)/3 - \int \frac{\text{sen}(3x)}{3} dx = x \text{sen}(3x)/3 + \frac{\cos 3x}{9} + C.$$

Criterios de corrección:

- Identificar el tipo de integral y plantear la integración por partes: 0,50 puntos.
- Plantear los dos términos de la integral por partes: 0,25 puntos.
- Resolución de la integral del segundo término de la integral por partes: 0,25 puntos.
- Realizar todos los cálculos correctamente y dar la solución correcta: 0,25 puntos.

$$b) \int \frac{dx}{2x^2+1} = \int \frac{dx}{(\sqrt{2} \cdot x)^2+1} = \int \frac{(\sqrt{2}/\sqrt{2})dx}{(\sqrt{2} \cdot x)^2+1} = \frac{1}{\sqrt{2}} \arctan(\sqrt{2} \cdot x) + C.$$

Criterios de corrección:

- Resolución justificada de la integral: 1 punto.
- Obtención del resultado final: 0,25 puntos.

4. Sean los planos $\pi_1 \equiv a \cdot x + y + 2 \cdot z = 3$ y $\pi_2 \equiv 2 \cdot x - y + a \cdot z = 0$.

- a) [1 punto] Determina razonadamente el valor de a para que los planos π_1 y π_2 sean perpendiculares.
- b) [1,5 puntos] Para $a = 1$ calcula la distancia del punto $P(2, 0, 1)$ al plano π_1 .

Solución:

- a) El vector normal al plano π_1 es $\vec{u} = (a, 1, 2)$ y el del plano π_2 es $\vec{v} = (2, -1, a)$. Los planos π_1 y π_2 van a ser perpendiculares si y solo si sus vectores normales lo son. Para que sean perpendiculares su producto escalar ha de ser cero: $\vec{u} \cdot \vec{v} = 2a - 1 + 2a = 0 \iff 4a - 1 = 0 \iff a = 1/4$.

Criterios de corrección:

- Planteamiento del problema: 0,25 puntos.
 - Obtención de los vectores normales: 0,25 puntos
 - Producto escalar: 0,25 puntos.
 - Cálculo del valor de a : 0,25 puntos
- b) Para $a = 1$ el plano es $\pi_1 \equiv x + y + 2 \cdot z = 3$. Sea $Q(x, y, z)$ (abusando de la notación) el punto del plano que define la distancia mínima al punto P , es decir, tal que $d(P, \pi_1) = |\vec{QP}|$. Como $|\vec{QP} \cdot \vec{u}| = |\vec{QP}| \cdot |\vec{u}|$, tenemos que la distancia al plano de P es $|\vec{QP} \cdot \vec{u}|/|\vec{u}|$. Como $|\vec{QP} \cdot \vec{u}| = |(2-x, -y, 1-z) \cdot (1, 1, 2)| = |2-x-y+2(1-z)| = |4-(x+y+2z)| = |4-3| = 1$. Además, $|\vec{u}| = |\sqrt{1^2 + 1^2 + 2^2}| = \sqrt{6}$. Por tanto, la distancia al plano π_1 del punto P es $1/\sqrt{6}$.

Criterios de corrección:

- Planteamiento del problema: 0,25 puntos.
 - Cálculo de $|\vec{QP} \cdot \vec{u}|$: 0,5 puntos.
 - Cálculo de $|\vec{u}|$: 0,5 puntos.
 - Obtención del resultado final: 0,25 puntos.
5. a) [1 punto] Calcula razonadamente el siguiente límite: $\lim_{x \rightarrow 1} \frac{x-1}{e^{x-1} - 1}$.
- b) [1,5 puntos] Dada la función

$$f(x) = \begin{cases} e^x & \text{si } x < 0 \\ \frac{1}{x-1} & \text{si } 0 \leq x \leq 2 \\ x & \text{si } x > 2 \end{cases},$$

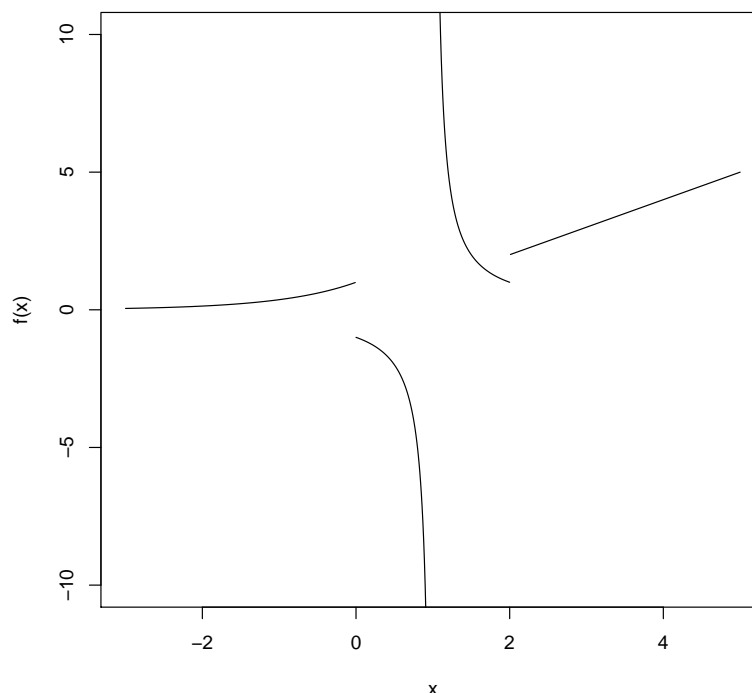
estudia su continuidad en $x = 0$ y en $x = 2$ e indica el tipo de discontinuidad, si la hubiera.

Solución:

- a) $\lim_{x \rightarrow 1} \frac{x-1}{e^{x-1} - 1} = \frac{0}{0}$, indeterminación. Usamos la regla de L'Hôpital: $\lim_{x \rightarrow 1} \frac{x-1}{e^{x-1} - 1} = \lim_{x \rightarrow 1} \frac{1}{e^{x-1}} = \frac{1}{1} = 1$.

Criterios de corrección:

- Detectar indeterminación 0,25 puntos.
 - Plantear y ejecutar estrategia de resolución 0,5 puntos.
 - Resultado final correcto: 0,25 puntos.
- b) La gráfica de la función es:



- En $x = 0$: $f(0) = \frac{1}{0-1} = -1$.
 $\lim_{x \rightarrow 0^-} f(x) = \lim_{x \rightarrow 0^-} e^x = e^0 = 1$.
 $\lim_{x \rightarrow 0^+} f(x) = \lim_{x \rightarrow 0^+} \frac{1}{x-1} = \frac{1}{-1} = -1$.

La función $f(x)$ no es continua porque los límites laterales no coinciden y la discontinuidad es de salto finito.

- En $x = 2$: $f(2) = \frac{1}{2-1} = 1$.
 $\lim_{x \rightarrow 2^-} f(x) = \lim_{x \rightarrow 2^-} \frac{1}{x-1} = 1$
 $\lim_{x \rightarrow 2^+} f(x) = \lim_{x \rightarrow 2^+} x = 2$.

La función $f(x)$ no es continua porque los límites laterales no coinciden y la discontinuidad es de salto finito.

Criterios de corrección:

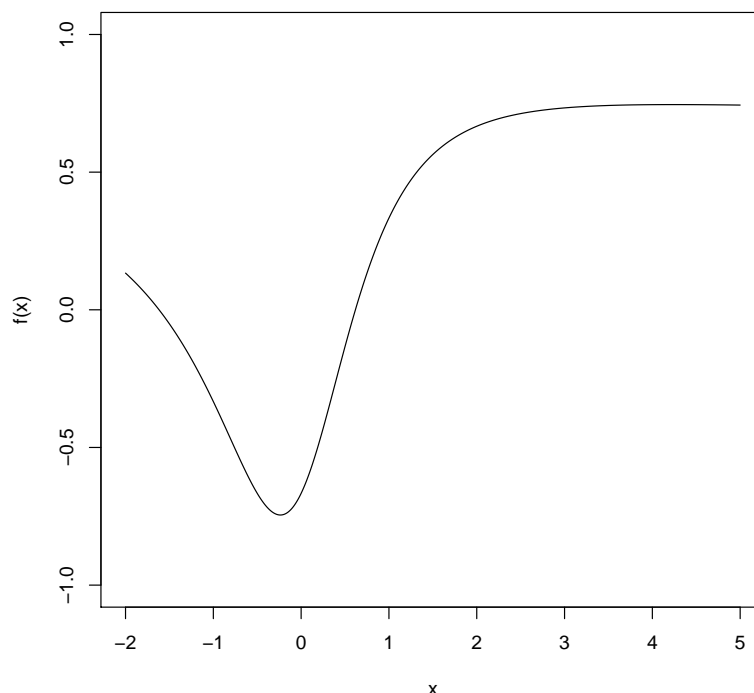
- Límites laterales en $x = 0$, a derecha: 0,25 puntos, a izquierda: 0.25 puntos.
- Discusión de la continuidad $x = 0$: 0,25 puntos
- Límites laterales en $x = 2$, a derecha: 0,25 puntos, a izquierda: 0.25 puntos.
- Discusión de continuidad en $x = 2$: 0,25 puntos.

6. Sea la función $f(x) = \frac{2x^2 + 2x - 2}{3x^2 + 3}$.

- a) [1,5 puntos] Halla razonadamente las coordenadas de los extremos relativos de la función $f(x)$ y clasifícalos.
- b) [1 punto] Calcula la ecuación de la recta tangente y la ecuación de la recta normal a la gráfica de la función $f(x)$ en el punto de abscisa $x = 1$.

Solución:

- a) La función $f(x)$ es continua y derivable en \mathbb{R} porque es el cociente de dos polinomios y el denominador no se anula en toda la recta real. La gráfica de la función es:



La derivada de la función es $f'(x) = \frac{3(-2x^2+8x+2)}{3^2(x^2+1)^2}$. Las raíces del numerador son $x = 2 \pm \sqrt{5}$.

La derivada puede escribirse como $f'(x) = \frac{-6(x-(2-\sqrt{5}))(x-(2+\sqrt{5}))}{3^2(x^2+1)^2}$. El signo de la derivada es:

- $(-\infty, 2 - \sqrt{5})$: signo negativo de la derivada, entonces la función es decreciente.
- $(2 - \sqrt{5}, 2 + \sqrt{5})$: signo positivo de la derivada, entonces la función es creciente.
- $(2 + \sqrt{5}, +\infty)$: signo negativo de la derivada, entonces la función es decreciente.

Por tanto, hay un mínimo local en $x = 2 - \sqrt{5}$ y un máximo local en $x = 2 + \sqrt{5}$.

Criterios de corrección:

- Cálculo de la derivada: 0'5 puntos.
- Cálculo de los puntos en los que se anula la derivada: 0'5 puntos.
- Discusión para determinar si los puntos son máximo o mínimo: 0'5 puntos.

- b) En ambos casos, la recta pasa por el punto de la gráfica $(1, f(1)) = (1, 1/3)$. La pendiente de la recta tangente es $f'(1) = 2/3$ y la de la recta normal es $-1/f'(1) = -3/2$.

La ecuación de la recta tangente es $y - 1/3 = \frac{2}{3}(x - 1)$ y la de la recta normal es $y - 1/3 = \frac{-3}{2}(x - 1)$.

Criterios de corrección:

- Cálculo de la recta tangente: 0'5 puntos.
- Cálculo de la recta normal: 0'5 puntos.

7. a) [1 punto] Sea la función $f(x) = a \cdot x^3 + b \cdot x^2 + x - 1$, con $a, b \in \mathbb{R}$. Determina los valores de a y b para que la gráfica de $f(x)$ pase por el punto $(1, 1)$ y tenga aquí un punto de inflexión.
- b) [1,5 puntos] Sea la función $f(x) = x \operatorname{sen}(x) - \cos(x)$. Enuncia el teorema de Rolle y úsalo para razonar si la función $f(x)$ tiene al menos un extremo relativo en el intervalo $[-1, 1]$.

Solución:

▪ **Criterios de corrección:**

- Las condiciones son:

a) $f(1) = 1 \iff a + b + 1 - 1 = 1 \iff a + b = 1.$

b) El punto de inflexión viene dado cuando $f''(x) = 0$. La derivada segunda es $f''(x) = 6 \cdot a \cdot x + 2 \cdot b$. Por tanto, $f''(1) = 6a + 2b = 0 \iff 3a + b = 0.$

Resolviendo para a y b las dos ecuaciones resultantes obtenemos que $a = -1/2$ y $b = 3/2$.

Criterios de corrección:

- Plantear el problema: 0,25 puntos.
 - Obtener la primera ecuación: 0,25 puntos.
 - Obtener la segunda ecuación: 0,25 puntos.
 - Dar los valores correctos de a y b : 0,25 puntos.
- Teorema de Rolle: “Si $f(x)$ es continua en el intervalo $[a, b]$ y derivable en el intervalo (a, b) tal que $f(a) = f(b)$, entonces existe un punto $c \in (a, b)$ tal que $f'(c) = 0$.”
 Como $f(-1) = f(1) = 0,3011687$, y $f(x)$ es continua en $[-1, 1]$ (por ser producto y suma de funciones continuas) y derivable en $(-1, 1)$ (por ser suma y producto de funciones derivables), entonces va a existir un punto $c \in (-1, 1)$ en el que la derivada se anula. Este punto será un extremo relativo de $f(x)$.

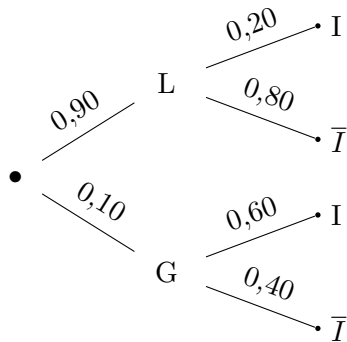
Criterios de corrección:

- Enunciar el teorema de Rolle: 0'5 puntos.
 - Comprobar que se puede aplicar: 0'5 puntos.
 - Justificar el extremo relativo: 0'5 puntos.
8. a) En el servicio de urgencias clasifican a los pacientes en leves y graves según llegan al hospital. El 20 % de los pacientes leves debe ingresar en el hospital, mientras que el 60 % de los pacientes graves debe hacerlo. En un día cualquiera llegan al servicio de urgencias un 90 % de pacientes leves y un 10 % de pacientes graves. Si se selecciona un paciente al azar:
- a.1) **[0,5 puntos]** ¿Qué probabilidad hay de que deba ingresar en el hospital?
- a.2) **[0,75 puntos]** Si se sabe que el paciente tuvo que ingresar, ¿cuál es la probabilidad de que llegara al hospital con una dolencia leve?
- b) En un momento dado llegan 8 pacientes a urgencias.
- b.1) **[0,5 puntos]** ¿Qué probabilidad hay de que exactamente 4 pacientes se clasifiquen como leves?
- b.2) **[0,75 puntos]** ¿Cuál es la probabilidad de que como mucho 7 pacientes sean clasificados como leves?

n	k \ p	p								
		0.1	0.2	0.3	0.4	0.5	0.6	0.7	0.8	0.9
8	0	0.4305	0.1678	0.0576	0.0168	0.0039	0.0007	0.0001	0.0000	0.0000
	1	0.3826	0.3355	0.1977	0.0896	0.0313	0.0079	0.0012	0.0001	0.0000
	2	0.1488	0.2936	0.2965	0.2090	0.1094	0.0413	0.0100	0.0011	0.0000
	3	0.0331	0.1468	0.2541	0.2787	0.2188	0.1239	0.0467	0.0092	0.0004
	4	0.0046	0.0459	0.1361	0.2322	0.2734	0.2322	0.1361	0.0459	0.0046
	5	0.0004	0.0092	0.0467	0.1239	0.2188	0.2787	0.2541	0.1468	0.0331
	6	0.0000	0.0011	0.0100	0.0413	0.1094	0.2090	0.2965	0.2936	0.1488
	7	0.0000	0.0001	0.0012	0.0079	0.0313	0.0896	0.1977	0.3355	0.3826
8	0.0000	0.0000	0.0001	0.0007	0.0039	0.0168	0.0576	0.1678	0.4305	

Solución:

- a) Probabilidad de que llegue un paciente leve es $P(L) = 0,9$ y la probabilidad de que sea grave es $P(G) = 0,1$. La probabilidad de que ingrese si el paciente es leve es $P(I | L) = 0,20$ y la probabilidad de que ingrese si es grave es $P(I | G) = 0,60$.



a.1) [0,5 puntos] La probabilidad de que un paciente elegido al azar deba ingresar en el hospital aplicando el teorema de la probabilidad total es: $P(I) = 0,20 \cdot 0,90 + 0,60 \cdot 0,10 = 0,18 + 0,06 = 0,24$.

Criterios de corrección: Explicación y planteamiento: 0,25 puntos. Resultado correcto: 0,25 puntos.

a.2) [0,75 puntos] La probabilidad de que un paciente que haya ingresado tenga una dolencia leve se puede calcular por el Teorema de Bayes o el diagrama:

$$P(L | I) = \frac{P(L \cap I)}{P(I)} = \frac{0,18}{0,24} = 0,75.$$

Criterios de corrección: Explicación y planteamiento: 0,25 puntos. Cálculo de probabilidades auxiliares: 0,25 puntos. Resultado correcto: 0,25 puntos.

b) Sea X la variable aleatoria de cuántos de esos 8 pacientes que llegan a urgencias se clasifican como leves. X sigue una distribución binomial con $n = 8$ y probabilidad $p = 0,90$.

b.1) La probabilidad de que exactamente 4 sean clasificados como leves es $P(X = 4) = \binom{8}{4} 0,90^4 \cdot 0,10^4 = 0,0046$.

Criterios de corrección: Definición de la variable y planteamiento del problema: 0,25 puntos. Resolución: 0,25 puntos.

b.2) La probabilidad de que como mucho 7 sean clasificados como leves es $P(X \leq 7) = 1 - P(X = 8) = 1 - 0,4305 = 0,5695$.

Criterios de corrección: Planteamiento del problema: 0,25 puntos. Justificación del cálculo de la probabilidad: 0,25 puntos. Obtención de la probabilidad final: 0,25 puntos.